









**الوضعية 1** لإعداد ألبيوم ألفت بـ 20 صفحة مخصصة للحيوانات  
46 صورة لحيوانات أليفة و 52 صورة لحيوانات برية. كما ألفت بـ 10  
صفحات مخصصة للطيور 31 صورة لطيور صغيرة الحجم و 14 صورة  
لطيور كبيرة الحجم.

① أحسب عدد صور الطيور:

1

② أحسب عدد صور الحيوانات الأليفة والحيوانات البرية:

1

③ أحسب عدد صفحات الألبوم:

1

④ أرتب أعداد مختلف الصور: < < <

1.5

**الوضعية 2** أثناء حصّة التربية البدنية جرى أحمد 43 متراً وجرث  
فاطمة 34 متراً وجرى سالم 62 متراً وجرث مريم 33 متراً.

① أكتب أسماء الأطفال مرتبة من جري أطول مسافة:

1.5

② أحسب المبالغ التالية لأقدم أكبر مبلغ للفائز (أحيط أكبر مبلغ بخط

مغلق).

4.5



①

مي .....



① ②

مي .....



① ②

مي .....





**الوضعية 3** كُنْتُ وَإِخْوَتِي نَحْبُ جَمْعِ الطَّوَابِعِ الْبَرِيدِيَّةِ. تَتَكَوَّنُ مَجْمُوعَتِي مِنْ 25 طَابِعًا وَتَتَكَوَّنُ مَجْمُوعَةُ أَخِي مِنْ 62 طَابِعًا وَتَتَكَوَّنُ مَجْمُوعَةُ أُخْتِي مِنْ 41 طَابِعًا:

1.5 ① أَرْتَبُ عَدَدَ الطَّوَابِعِ الْبَرِيدِيَّةِ مِنَ الْأَصْغَرِ إِلَى الْأَكْبَرِ:

2.5 ② أَضَعُ الْعَلَامَةَ (x) فِي الْخَانَةِ الْمُنَاسِبَةِ حَسَبَ الْوَضْعِيَّةِ:

كَمَّهَا	62	41	25	62+25	41+25
مَجْمُوعَتِي مِنَ الطَّوَابِعِ					
مَجْمُوعَةُ أُخْتِي مِنَ الطَّوَابِعِ					
مَجْمُوعَةُ أَخِي مِنَ الطَّوَابِعِ					
مَجْمُوعَتِي وَمَجْمُوعَةُ أَخِي مِنَ الطَّوَابِعِ					
مَجْمُوعَتِي وَمَجْمُوعَةُ أُخْتِي مِنَ الطَّوَابِعِ					

**الوضعية 4** الْأَحِظْ الْمَشْهَدَ وَأَكْمِلِ الْفَرَاغَ بِمَا

يُنَاسِبُ: \* ..... عَلَى يَمِينِ الطِّفْلِ.

\* ..... عَلَى يَسَارِ الطِّفْلِ.

\* ..... تَحْتَ الْغِطَاءِ.

1.5



③ أَحْسِبْ ذَهْنِيًّا:

..... = 40 + 45

..... = 18 + 60

④ أَكْمِلْ بِالْعَدَدِ الْمُنَاسِبِ:

97 < ..... < 99 / 38 > ..... > 36

الْحِسَابُ الذَّهْنِيُّ:

① أَكْتُبُ الْعَدَدَ الَّذِي يَأْتِي مُبَاشَرَةً بَعْدَ

67 ..... / 49

② أَكْتُبُ الْعَدَدَ الَّذِي يَسْبِقُ مُبَاشَرَةً

الْعَدَدَ: 88 ..... / 80



**الوضعية 1** بالأمس، عباً كلٌّ من أبي وعمي صُحْبَةَ فَرِيقَيْنِ مِنَ

الْعَمَالِ مَحَاصِيلِ الْمَرْزَعَةِ مِنَ الْخُضِرِ حَسَبِ الْجَدْوَلِ التَّالِي:

عَدَدُ صَنَادِيْقِ الْبَطَاطَا	عَدَدُ صَنَادِيْقِ الْفُلْفُلِ	عَدَدُ صَنَادِيْقِ الطَّمَاطِمِ	
41	36	12	فَرِيقُ أَبِي
32	33	24	فَرِيقُ عَمِّي

1 ① أرتب عدد الصناديق التي عبأها أبي وعماله من الأكبر إلى الأصغر:

1 ② أرتب عدد الصناديق التي عبأها عمي وعماله من الأكبر إلى الأصغر:

1 ③ أحسب كم صندوقاً من الفلفل عبأ فريق أبي وفريق عمي:

1 ④ أحسب كم صندوقاً من الطماطم عبأ فريق أبي وفريق عمي:

2.5 ⑤ أحسب عدد صناديق الخضر التي عبأها فريق عمي:

1.5 ⑥ أحسب عدد صناديق الخضر التي عبأها فريق أبي:

2 ⑦ أرتب أعداد العملية السابقة من الأصغر إلى الأكبر:





**الوضعية 2** وَقَفَ فِرَاسٌ أَمَامَ وَاجِهَةِ مَغَازِرَةِ يَتَأَمَّلُ أَثْمَانَ اللَّعِبِ. أَدْخَلَ

يَدَهُ فِي جَيْبِهِ ثُمَّ قَالَ فِي نَفْسِهِ: \* يَنْقُصُنِي لِشِرَاءِ نُفَاحَةٍ 95 مِي.

\* وَيَنْقُصُنِي لِشِرَاءِ 4 كُجَاتٍ 55 مِي.

\* يَبْقَى عِنْدِي 25 مِي إِذَا شَرَيْتُ كُجَتَيْنِ فَقَطْ.

① أَمْتَلُ بِ 4 قِطْعِ نَقْدِيَّةِ الْمَبْلَغِ الْمَالِيِّ الَّذِي يَنْقُصُ فِرَاسٍ عِنْدَ شِرَاءِ

النُّفَاحَةِ:

② أَوْصِلُ تَمَثِيلَ الْمَبْلَغِ الَّذِي يَنْقُصُ فِرَاسٍ عِنْدَ شِرَاءِ 4 كُجَاتٍ:



③ أَحِيطُ بِخَطِّ مُغْلَقٍ الْقِطْعِ النَّقْدِيَّةِ الَّتِي تَبْقَى عِنْدَ فِرَاسٍ عِنْدَ شِرَاءِ

كُجَتَيْنِ فَقَطْ:



فِرَاسٌ سَلْمَى رَانِيَّةٌ



④ أَشْطَبُ الْخَطَأَ: فِرَاسٌ عَلَى يَمِينِ سَلْمَى.

رَانِيَّةٌ عَلَى يَسَارِ سَلْمَى.

⑤ أَرْسُمُ وَرْدَةً عَلَى يَمِينِ فِرَاسٍ.

**الحساب الذهني:**

① أَكْتُبُ أَكْبَرَ عَدَدٍ يَتَكَوَّنُ

مِنْ رَقْمَيْنِ: .....

② أَكْمِلُ الْعَدَدَ النَّاقِصَ فِي مَا يَلِي:

$$80 = 60 + \dots$$

$$\dots = 30 + 45$$

$$85 < \dots$$

③ أَوْصِلُ الْعَدَدَ بِزِيَادَةِ 4:

..... ، 26 ، 22 ، .....

④ أَكْمِلُ بِرَسْمِ الْقِطْعَةِ النَّقْدِيَّةِ


الْمُنَاسِبَةَ:

$$\text{10} + \text{20} = \text{50}$$

$$\text{10} + \text{5} + \text{5} + \text{5} = 75 \text{ مِي}$$



صفحة 11 :



- ⑤ إغترافاً لها بالجميل . / وحمد الله أنه ردّ الجميل في الوقت المناسب .  
 ⑥ فرحت النملة بنجاة الحمامة وحمدت الله أنها ردت لها الجميل .  
 ⑦ أعطيه قلبي . أساعده على إيجاد قلبه .

تواصل شلوي :

شاهد سرب من الحمام حياً منتوراً على شبة فوق غليها يتقرها بشرها . أسرع الصياد وأطبق الشبة على الحمام . وأسرع ليأتي بالقفص . صاحت الحمامات طالبة النجدة فسمع الفأز صياحها وجرى ليُنقذها .  
 قرص الفأز الشبة وخلص الحمام من الأسر . طارت الحمامات مزفرقة في الفضاء .  
 سرّ الفأز بنجاة الحمام وحمد الله أنه ردّ الجميل في الوقت المناسب .




صفحة 12 :



2- سمعت الحمامة صراخ النملة . فانفت لها ورقة لتمسك بها .



4- قالت النملة: " شكراً لك صديقتي الحمامة، لن أنسى مغروفك ."



1- أزدت النملة أن تشرب من ماء النهر . فوقعت في الماء وكادت أن تغرق .



3- صعدت النملة فوق الورقة وأخذت تجذب وتحرك الماء إلى أن وصلت إلى الأرض . ونجت من الغرق .

صفحة 13 :

- ① مضرب / بيض / خذروف / خاتم  
 ② شرى خالد خوفاً وينبضا وغاد مسرعاً إلى الدار .

صفحة 14 :

- ① مغطف - غنقود جنب - قبة  
 ② لبس نعمان ثغلاً وأخذ مغولاً وخرج إلى صينته .

صفحة 15 :

- ① مدياع / مخرات / ثوم / مغطس  
 ② قال الثعلب للغراب: " منذ زمن لم أسمع صوتك، عن لي أغنية عذبة ."

صفحة 16 :

- ① لينون / ظرف / هاتف / هدية  
 ② فرح الخميح بجذم الهادي، هذا نعالقه وهذه ثقلة .

صفحة 17 : الوضعة 1:

① غد الأطفال المشاركين في الخفل: 38=18+20

② غد الطيور المشاركة في الخفل: 59=33+26

الوضعة 2:

① غد الفراشات المشاركة في الرقص: 85=42+43

② 21 > 22 > 25 ③ 15 < 20 < 42

صفحة 18 : ④ الغد الجملي للأزهار التي حملتها المنجوعة

الثانية من الفراشات: 77=20+42+15

الوضعة 3: ①

القطع النقدية المتبقية	القطع النقدية المتبقية	القطع النقدية المتبقية
بغذ شراء الخلوى	الباقية بغذ شراء المرطبات	الباقية بغذ شراء العشروبات
المتبغ العالي 65 مي	المتبغ العالي 85 مي	المتبغ العالي 80 مي

⑤ 85 مي < 80 مي < 65 مي

الوضعة 4: سلمى على يميني .

الكرة على يميني منها . / رائية على يساري .

الحساب الذهني: ① 89 - 90 / 60 - 61

② 39 - 40 / 37 - 38

③ 50 + 40 = 90 / 30 + 24 = 54

④ 56 < 50 / 30 > 31 > 32



الوضعية 3: لأصرف كامل نقودي اشتري شغلاطة وحلوى.  
لأصرف كامل نقودي اشتري جبنا وعلكة.



الوضعية 4:

1 العصا السحرية باليد

اليسرى للمهزج.

\* القبعة باليد اليمنى للمهزج.

الحساب الذهني:

1  $80 = 20 + 20 + 20 / 70 = 40 + 30$

2  $10 + 70 < 90 / 70 > 10 + 50$

3  $5 + 60 > 10 + 50 / 1 + 40 < 2 + 40$  (على سبيل المثال)

4  $75 , 65 , 55 , 45 , 35 , 25$

الوضعية 1: صفحة 23

1 غدد صور الطيور:  $45 = 14 + 31$

2 غدد صور الحيوانات الأليفة والحيوانات البرية:

$98 = 52 + 46$

3 غدد صفحات الألبوم:  $30 = 10 + 20$

4  $14 < 31 < 46 < 52$

الوضعية 2:

1 سالم - أحمد - فاطمة - مزيم.

2  $50 , 50 , 20$

3  $20 , 10 , 20$

63 مي

83 مي

91 مي

الوضعية 3: صفحة 24

1  $62 > 41 > 25$

2

+25	+25	25	41	62	كمها
41	62				
		x			مجموعة من الطوابع
			x		مجموعة أختي من الطوابع
				x	مجموعة أخي من الطوابع
	x				مجموعتي ومجموعة أخي من الطوابع
x					مجموعتي ومجموعة أختي من الطوابع

الوضعية 1: صفحة 19

1 ثمن قطعة الطباشير الملون وقطعة الطباشير الأبيض:

$45 = 20 + 25$  مي

2 ثمن قطعة الطباشير الملون والصورة:  $67 = 25 + 42$  مي

3  $90 > 42 > 25 > 20$

4  $20 , 20 , 20 , 10 , 5$

الوضعية 2: 1 المبلغ العالي الذي أرجعه لي الكئيب:

مي  $80 = 5 + 5 + 10 + 10 + 50$

الوضعية 3: صفحة 20

1  $23 < 35 < 41$

2 الغد الجملي لقطع الغنيس والبلاوة.  $58 = 23 + 35$

3 الغد الجملي لقطع الخطويات التي شرتها أمي:



الوضعية 4:

$99 = 41 + 23 + 35$

4  $99 > 41 > 35 > 23$

الحساب الذهني:

1  $45 , 40 , 35 , 30 , 25 , 20$

$88 , 90 , 92 , 94 , 96 , 98$

2  $66 = 40 + 26 / 35 = 20 + 15$

3  $42 < 50 / 57 > 48$

الوضعية 1: صفحة 21

1  $10 , 10 , 20 , 20 , 50 , 50 , 20 , 20 , 20 , 20 , 20 , 20$

أول  $10 , 10 , 20 , 20 , 50 , 50 , 20 , 20 , 20 , 20 , 20 , 20$

أول  $10 , 10 , 20 , 20 , 50 , 50 , 20 , 20 , 20 , 20 , 20 , 20$

2 المبلغ العالي الذي وضعت في اليوم الثاني:

مي  $75 = 5 + 10 + 10 + 50$

3 (على سبيل المثال)  $50 , 20 , 20 , 10 , 5$

4  $95 > 85 > 75$

الوضعية 2:

1 غدد صفحات القصتين الأولى والرابعة:  $68 = 36 + 32$

2 غدد صفحات القصتين الثالثة والثانية:  $68 = 24 + 44$

الوضعية 22:

3 غدد صفحات القصتين الأولى والثانية:  $56 = 24 + 32$

4  $24 < 32 < 36 < 44$

5  $44 > 40 > 36$



الحساب الذهني:

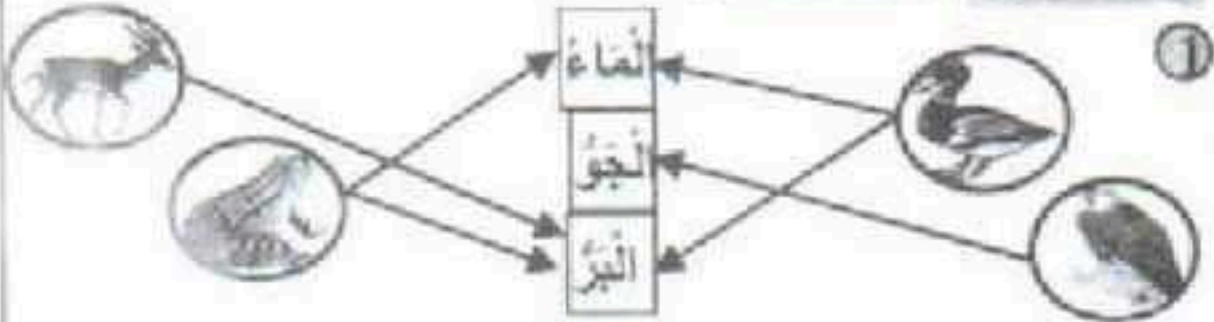
99 ①

85 < 90 / 75 = 30 + 45 / 80 = 60 + 20 ②

34 ، 30 ، 26 ، 22 ③

75 مـ / 75 مـ = 75 مـ / 75 مـ ④

صفحة 27 : الوضعية 1:



② يتنقل النسر بالطيران. تتنقل السلحفاة بالقفز والسباحة.  
يتنقل الدلفين بالسباحة. يتنقل الغنم والأرنب بالقفز.




④ - النعامة تمشي أو تغزو لتتنقل من مكان إلى آخر.

- لا يمكن للسمكة أن تتنقل خارج الماء.

⑤ لا تطير الدجاجة كثيرا كالخمامة لأن  
جناحها صغيران  
ساقها صغيرتان  
جسمها ثقيل

الحصان يغزو بسرعة لأن  
قوائمه طويلة  
جسمه ثقيل  
له أربع قوائم

صفحة 28 : ⑥



الوضعية 2:

① يجذب سامي العربة

بذفع أخذ النقالة.

بذفع مهدي الكرة فتعسك بها سلمى.

② - عندما أدفع لعبتي فأنتي أبعدا عني.

- عندما أجذب لعبتي فأنتي أقربيا مني.

③ \* سقط القلم من يدي ف ( ارتفع إلى الأعلى ) - نزل إلى

أسفل).

الوضعية 4: \* ذب على يمين الطفل.

\* قفز على يسار الطفل.

\* الطفل تحت الغطاء.

الحساب الذهني:

50 - 49 / 68 - 67 ①

88 - 87 / 80 - 79 ②

78 = 18 + 60 / 85 = 40 + 45 ③

97 < 98 < 99 / 38 > 37 > 36 ④

صفحة 25 : الوضعية 1:

12 < 36 < 41 ①

24 < 32 < 33 ②

③ عدد صناديق الفلفل التي عبأها الفريقان:

69 = 33 + 36

④ عدد صناديق الطعام التي عبأها الفريقان:

36 = 24 + 12

⑤ عدد صناديق الخضر التي عبأها فريق عني:


89 = 32 + 33 + 24

⑥ عدد صناديق الخضر التي عبأها فريق أبي:

89 = 41 + 36 + 12

89 > 41 > 36 > 12 ⑦

صفحة 25 : الوضعية 2:



④ فراسن على يمين سلمى

رائية على يسار سلمى













**الوضعية 1** دَخَلْتُ الْمَكْتَبَةَ لِشِرَاءِ بَعْضِ الْأَدَوَاتِ:

الأدوات	ورقة	قطعة	قطعة	صورة
التَّمَنُّ	تصوير	طباشير أبيض	طباشير ملون	صورة
90 مي	20 مي	25 مي	42 مي	

① أبحاث عن ثمن قطعة الطباشير الملون وقطعة الطباشير الأبيض:

1.5

② أبحاث عن ثمن قطعة الطباشير الملون والصورة:

1.5

③ أرتب أثمان الأدوات المعروضة من الأصغر إلى الأكبر:

1.5

④ أمثل ثمن ورقة التصوير بـ 3 قطع نقدية:

1

⑤ أكمل تمثيل ثمن الصورة بالقطع النقدية المناسبة:

1



**الوضعية 2** قُمْتُ بِشِرَاءِ مَا يَلْزَمُنِي مِنَ الْمَكْتَبَةِ. فَأَرْجِعُ لِي الْكُتُبِي

القطع النقدية التالية: 50 5 5 10 10

\* أحسب المبلغ المالي الذي أرجعه لي الكتبي:

1





الوضعية 3 بمناسبة عيد الفطر شرت أمي 35 قطعة من الملبس

و 41 قطعة من الكعك و 23 قطعة من البقلاوة.

1 أرتب أعداد أنواع الحلويات من الأكبر إلى الأصغر:

1.5

2 أحسب العدد الجملي لقطع الملبس والبقلاوة.

1.5

3 أحسب العدد الجملي لقطع الحلويات التي شرتها أمي.

2.5

4 أرتب أعداد العملية السابقة من الأصغر إلى الأكبر:

1.5

الوضعية 4 جلست على يمين المعلمة وجلس صديقي رامي على

يسارها أما صديقتي منى فقد جلست على يميني:

\* أشير إلى:

أنا ← بالعلامة ( × )

منى ← بالعلامة ( ○ )

رامي ← بالعلامة ( □ )

1.5



الحساب الذهني: 1 أكمل بكتابة الأعداد وفقاً للخطوة المطلوبة:

4

\* 20، 25، 30، .....، .....، 45

\* 88، .....، .....، 94، 96، 98

2 أحسب ذهنياً: 20 + 15 = ..... / 40 + 26 = .....

3 أكمل بكتابة الرقم الناقص: 7 > 48 ..... 2 < 50 .....



**الوضعية 1** بعد غدٍ سنأحتفل بعيد ميلادي. دعوتُ لِدِك 20 ولداً و 18 بنتاً لمشاركتي الاحتفال. وفي منامي حلّمتُ فرأيتُ أصدقائي من الطيور والفرشاتِ تُشاركني الاحتفال. لقد عرّف 26 عُصفوراً أعذب الألحانِ وعَنَى 33 ديكاً أخلَى الأغاني.

1.5

① أبحثُ عن عددِ الأَطْفَالِ المُشَارِكِينَ فِي الحَفْلِ:

1.5

② أبحثُ عن عددِ الطُّيُورِ المُشَارِكَةِ فِي الحَفْلِ:

**الوضعية 2** وعلى أنغام الطيور رقصت مجموعتان من الفراشات وهي تحمِلُ بعض الأزهار كما هو مبين في الجدول التالي:

الفرشات	تحمِلُ	بنفسجة	قرنفلة	وردة
المجموعة 1	تعدُّ 43 فراشة	25	22	21
المجموعة 2	تعدُّ 42 فراشة	15	42	20

1.5

① أبحثُ عن عددِ الفَرَاشَاتِ المُشَارِكَةِ فِي الرِّقْصِ:

1.5

② أرتبُ مِنَ الأصغرِ إِلَى الأكبرِ أَعْدَادَ مُخْتَلَفِ الزُّهُورِ الَّتِي حَمَلَتْهَا المَجْمُوعَةُ الأُولَى مِنَ الفَرَاشَاتِ.

1.5

③ أرتبُ مِنَ الأكبرِ إِلَى الأصغرِ أَعْدَادَ مُخْتَلَفِ الزُّهُورِ الَّتِي حَمَلَتْهَا المَجْمُوعَةُ الثَّانِيَةُ مِنَ الفَرَاشَاتِ.





**الوضعية 1** تَعَوَّدْتُ أَنْ آخُذَ مِنْ أُمِّي مَبْلَغًا مَالِيًّا أَضَعُهُ فِي حِصَّالَتِي.

فِي الْيَوْمِ الْأَوَّلِ وَضَعْتُ بِهَا 85 مِي أَمَا فِي الْيَوْمِ الثَّانِي فَقَدْ وَضَعْتُ

بِالْحِصَّالَةِ الْقِطْعَ النَّقْدِيَّةَ التَّالِيَةَ:    

وَفِي الْيَوْمِ الثَّالِثِ وَضَعْتُ بِهَا 95 مِي.

① أَضَعُ دَاخِلَ خَطِّ مُغْلَقِ الْقِطْعِ الَّتِي تَمَثِّلُ الْمَبْلَغَ الَّذِي وَضَعْتُهُ فِي الْيَوْمِ

الأوَّلِ:            

② أَحْسِبُ الْمَبْلَغَ الْمَالِيَّ الَّذِي وَضَعْتُهُ فِي الْيَوْمِ الثَّانِي:

1

③ أَكْمِلُ تَمَثِيلَ مَبْلَغِ الْيَوْمِ الثَّالِثِ بِرِسْمِ الْقِطْعِ النَّاقِصَةِ:

1

④ أَرْتَبُ مَبَالِغَ الْأَيَّامِ الثَّلَاثَةِ مِنَ الْأَصْغَرِ إِلَى الْأَكْبَرِ:

1.5

**الوضعية 2** قَرَأْتُ خِلَالَ عِطْلَةِ الرَّبِيعِ 4 قِصَصٍ. بِالْقِصَّةِ الْأُولَى 32

صَفْحَةً وَبِالْقِصَّةِ الثَّانِيَةِ 24 صَفْحَةً. وَبِالْقِصَّةِ الثَّلَاثَةِ 44 صَفْحَةً وَبِالْقِصَّةِ

الرَّابِعَةِ 36 صَفْحَةً.

① أَحْسِبُ عِدَدَ صَفْحَاتِ الْقِصَّتَيْنِ الْأُولَى وَالرَّابِعَةِ:

1.5

② أَحْسِبُ عِدَدَ صَفْحَاتِ الْقِصَّتَيْنِ الثَّلَاثَةِ وَالثَّانِيَةِ:

1.5






2.5 ④ أبحث عن العدد الجملي للأزهار التي حملتها المجموعة الثانية من الفراشات:

الوضعية 3 لإقامة حفل عيد ميلادي شريت على التوالي المشروبات والمرطبات والحلوى و بقي لي مبلغ مالي.

① أقرأ الجدول التالي ثم أعمّر الناقص:

3	القطع النقدية الباقية بعد شراء الحلوى	القطع النقدية الباقية بعد شراء المرطبات	القطع النقدية الباقية بعد شراء المشروبات
			
	المبلغ المالي 65 مي	المبلغ المالي 85 مي	المبلغ المالي.....مي

1.5 ② أرتب المبالغ المالية الثلاثة من الأكبر إلى الأصغر.



الوضعية 4 الأخط المشهد و أملاً الفراغ:

1.5 ..... على يميني.  
..... على يمين مها. على يساري.

الحساب الذهني :

4	③ أحسب ذهنيًا: ..... = 40 + 50 ..... = 24 + 30	① ما هو العدد الذي يأتي مباشرة بعد: 89 ..... 60
	④ أكتب عددًا مناسبًا مكان النقطة: 56 < ..... 32 > ..... > 30	② ما هو العدد الذي يسبق مباشرة العدد: 40 ..... 38



1.5

3 أَسْبُ عِدَدَ صَفَحَاتِ الْقِصَّتَيْنِ الْأُولَى وَالثَّانِيَةِ:

1.5


4 أَرْتَبْ عِدَدَ صَفَحَاتِ الْقِصَصِ الْأَرْبَعَةِ مِنَ الْأَكْبَرِ إِلَى الْأَصْغَرِ:

1.5

5 أَكْتُبْ عِدَدًا مُنَاسِبًا مَكَانَ النُّقْطِ:

44 > ..... > 36

الوضعية 3 بجيبى 95 مي وقد عرضت عليّ البضائع التالية:



65 مي



30 مي



20 مي



75 مي

2.5

و لأصرف كامل نقودي اشتري

و لأصرف كامل نقودي اشتري

1.5



الوضعية 4 1 أكمل بـ "اليمنى" أو "اليسرى"

\* العصا السحرية باليد..... للمهرج.

\* القبعة باليد..... للمهرج.

2 أرسم كرة على يسار المهرج.

3 أكتب العدد ناقص:

..... + 40 < 2 + 40

..... + 60 > 10 + 50

4 أواصل العد حسب الخطوة

المطلوبة: 25 ، 35 ، 45 ،

75 ، .....

الحساب الذهني: أكتب ذهنيًا:

70 = ..... + 30 1

..... =  +  + 

2 أكتب العدد المناسب:

70 > ..... + 50

..... + 70 < 90